
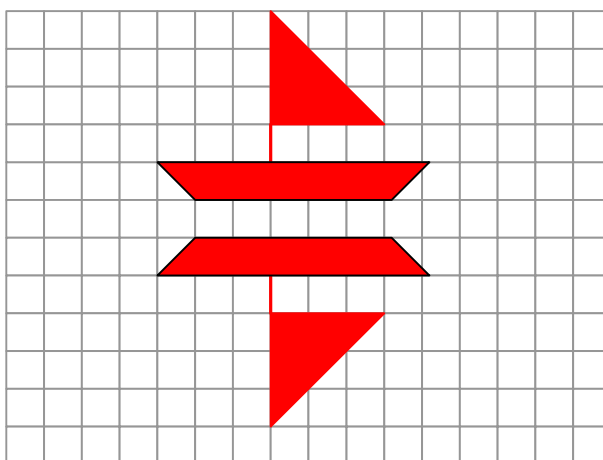
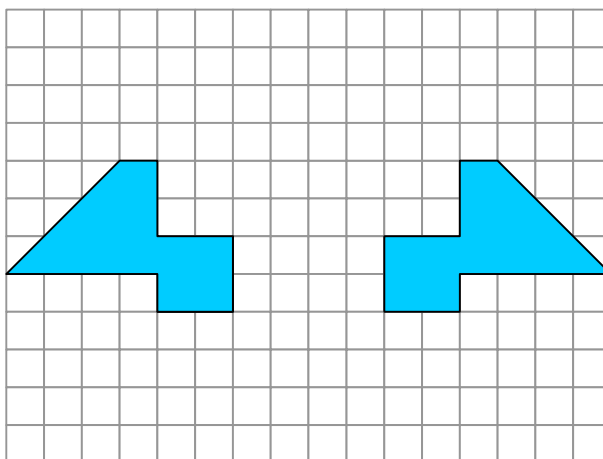


RYSOWANIE FIGUR SYMETRYCZNYCH WZGLĘDEM PROSTEJ

1. Narysuj trójkąt rozwartokątny i prostą **a** nie mającą punktów wspólnych z trójkątem. Wykreśl trójkąt symetryczny do danego względem prostej **a**.
2. Narysowane pary figur są symetryczne względem pewnej prostej. Narysuj tę prostą.



SYMETRIA